



# 數學觀摩賽模擬試題【幼童組】

比賽時間：15分鐘









試題共 2 頁



得 分	
--------	--

## 一、選擇題共三十題，每題五分





1. ( )  +  = ? ① 1  
② 4 ③ 7 ④ 8。







2. ( ) ○ ● ○ □ ▲ ● ○ ● 共有幾個【●】? ① 1 ② 2  
③ 3 ④ 4 個。

3. ( ) →      
從→數來第2個是什麼?  
①  ②  ③   
④ 。

4. ( )  -  = ?  
① 8 ② 5 ③ 3 ④ 2。





5. ( ) 哪一個是圓形? ①   
②  ③  ④ .

6. ( ) 哪一個杯子裝的水最多?  
①  ②  ③  ④ .



7. ( )       有幾個10?  
① 6 ② 7 ③ 50  
④ 60 個。


8. ( )  +  = ? ① 4  
② 5 ③ 6 ④ 7。

9. ( )  共有幾個? ① 8  
② 7 ③ 5 ④ 4 個。





10. ( ) 哪一個是正方形? ①   
②  ③  ④ .

11. ( )  共有幾個糖果?  
① 15 ② 14 ③ 13 ④ 12 個。





12. ( )  +  共有多少個?  
① 7 ② 6 ③ 5 ④ 4 個。

13. ( )  白色珠子有幾個?  
① 6 ② 4 ③ 3 ④ 2 個。

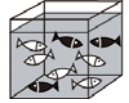
14. ( )  時鐘是幾點鐘?  
① 12 ② 4 ③ 5 ④ 6 點鐘。

15. ( ) 哪一個蛋糕最高?  
①  ②  ③  ④ .



16. ( )       
哪個和它最不相同?  
①  ②  ③  ④ .

17. ( ) 哪個是長方形?  
①  ②  ③  ④ .

18. ( )    共伸出幾隻手指頭?  
① 2 ② 5 ③ 7  
④ 12 隻。

19. ( )  魚缸裡有幾隻白色的魚?  
① 8 ② 7  
③ 6 ④ 5 隻。

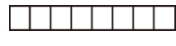

20. ( )  共分成幾片?  
① 1 ② 6 ③ 8 ④ 10 片。





21. ( )  +  = ?  
① 7 ② 8 ③ 9 ④ 10。

22. ( )  共有幾個三角形?  
① 12 ② 11 ③ 10 ④ 9 個。

23. ( )    
哪種水果比較多?  
①  ②  ③ 一樣多  
④ 不知道。


24. ( ) 【5】、【12】、【7】、【9】哪個數最小?  
① 12 ② 5 ③ 7 ④ 9。

25. ( )  -  = ?  
① 9 ② 7 ③ 5 ④ 3。

26. ( ) 哪個積木裡有三角形?  
①  ②  ③  ④ .

27. ( ) 3 → 4 → ( ) → 6 → 7,  
 ( ) 裡<sup>カ</sup>的<sup>カ</sup>數<sup>ズ</sup>是<sup>カ</sup>多<sup>ク</sup>少<sup>ク</sup>? ① 8  
 ② 7 ③ 6 ④ 5。

28. ( ) →        
 從<sup>カ</sup>→算<sup>カ</sup>起<sup>カ</sup>第<sup>ニ</sup>5個<sup>ニ</sup>是<sup>カ</sup>哪<sup>カ</sup>一  
 個<sup>ニ</sup>? ①  ②  ③   
 ④ 。


29. ( )  時<sup>ツ</sup>鐘<sup>ツ</sup>是<sup>カ</sup>幾<sup>ク</sup>點<sup>ツ</sup>鐘<sup>ツ</sup>?  
 ① 12 ② 11 ③ 4 ④ 3  
 點<sup>ツ</sup>鐘<sup>ツ</sup>。

30. ( )          
 共<sup>ニ</sup>有<sup>ク</sup>幾<sup>ク</sup>顆<sup>ツ</sup>鳳<sup>ツ</sup>梨<sup>ツ</sup>? ① 10  
 ② 9 ③ 8 ④ 7 顆<sup>ツ</sup>。

7.       +   是<sup>カ</sup>多<sup>ク</sup>少<sup>ク</sup>元<sup>ツ</sup>幣<sup>ツ</sup>?  
 元<sup>ツ</sup>幣<sup>ツ</sup>?

答<sup>ツ</sup> ( ) 元<sup>ツ</sup>幣<sup>ツ</sup>

8. 下<sup>ニ</sup>面<sup>ニ</sup>哪<sup>カ</sup>個<sup>ニ</sup>杯<sup>ツ</sup>子<sup>ツ</sup>最<sup>モ</sup>高<sup>ク</sup>? 請<sup>カ</sup>打<sup>ツ</sup> V。



9.   兩<sup>ニ</sup>枝<sup>ツ</sup>筆<sup>ツ</sup>共<sup>ニ</sup>有<sup>ク</sup>幾<sup>ク</sup>個<sup>ニ</sup> ?


答<sup>ツ</sup> ( ) 個<sup>ツ</sup>

10.       下<sup>ニ</sup>一<sup>ニ</sup>個<sup>ニ</sup>是<sup>カ</sup>什<sup>ニ</sup>麼<sup>ニ</sup>顏<sup>ツ</sup>色<sup>ツ</sup>? 請<sup>カ</sup>打<sup>ツ</sup> V。

 ( )  ( )




11.       吃<sup>ツ</sup>掉<sup>ツ</sup> 5 個<sup>ツ</sup>,  
 還<sup>カ</sup>有<sup>ク</sup>多<sup>ク</sup>少<sup>ク</sup>個<sup>ツ</sup>?

答<sup>ツ</sup> ( ) 個<sup>ツ</sup>


12.  時<sup>ツ</sup>鐘<sup>ツ</sup>長<sup>ツ</sup>針<sup>ツ</sup>和<sup>ツ</sup>短<sup>ツ</sup>針<sup>ツ</sup>的<sup>カ</sup>數<sup>ツ</sup>字<sup>ツ</sup>  
 加<sup>ツ</sup>起<sup>ツ</sup>來<sup>ツ</sup>是<sup>カ</sup>多<sup>ク</sup>少<sup>ク</sup>元<sup>ツ</sup>幣<sup>ツ</sup>?

答<sup>ツ</sup> ( )

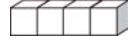

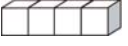
二、應<sup>ニ</sup>用<sup>ニ</sup>題<sup>ニ</sup>共<sup>ニ</sup>十<sup>ニ</sup>五<sup>ニ</sup>題<sup>ニ</sup>, 每<sup>ニ</sup>題<sup>ニ</sup>十<sup>ニ</sup>分<sup>ニ</sup>

1. 弟<sup>カ</sup>弟<sup>カ</sup>有<sup>ク</sup>   , 媽<sup>ツ</sup>媽<sup>ツ</sup>再<sup>ツ</sup>給<sup>ツ</sup>他<sup>ツ</sup>  
 , 他<sup>ツ</sup>共<sup>ニ</sup>有<sup>ク</sup>幾<sup>ク</sup>個<sup>ニ</sup> 10 元<sup>ツ</sup>幣<sup>ツ</sup>?

答<sup>ツ</sup>: ( ) 個<sup>ツ</sup>

2.  左<sup>ニ</sup>圖<sup>ニ</sup>是<sup>カ</sup>一<sup>ニ</sup>個<sup>ニ</sup>奶<sup>ツ</sup>粉<sup>ツ</sup>罐<sup>ツ</sup>, 用<sup>ツ</sup>了<sup>ツ</sup>  
 什<sup>ニ</sup>麼<sup>ニ</sup>形<sup>ツ</sup>狀<sup>ツ</sup>? 請<sup>カ</sup>打<sup>ツ</sup> V。

答<sup>ツ</sup>: 三<sup>ツ</sup>角<sup>ツ</sup>形<sup>ツ</sup> ( ) 正<sup>ツ</sup>方<sup>ツ</sup>形<sup>ツ</sup> ( )  
 圓<sup>ツ</sup>形<sup>ツ</sup> ( ) 五<sup>ツ</sup>邊<sup>ツ</sup>形<sup>ツ</sup> ( )

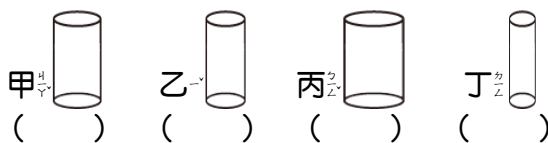
3.  +  +  共<sup>ニ</sup>  
 有<sup>ク</sup>多<sup>ク</sup>少<sup>ク</sup>個<sup>ニ</sup>積<sup>ツ</sup>木<sup>ツ</sup>?

答<sup>ツ</sup> ( ) 個<sup>ツ</sup>

4.       共<sup>ニ</sup>有<sup>ク</sup>多<sup>ク</sup>少<sup>ク</sup>隻<sup>ツ</sup>雞<sup>ツ</sup>?

答<sup>ツ</sup> ( ) 隻<sup>ツ</sup>


5. 下<sup>ニ</sup>列<sup>ニ</sup>哪<sup>カ</sup>一<sup>ニ</sup>個<sup>ニ</sup>瓶<sup>ツ</sup>子<sup>ツ</sup>裝<sup>ツ</sup>的<sup>カ</sup>水<sup>ツ</sup>最<sup>モ</sup>少<sup>ク</sup>?  
 請<sup>カ</sup>打<sup>ツ</sup> V。



6.  加<sup>ツ</sup>上<sup>ツ</sup>  共<sup>ニ</sup>有<sup>ク</sup>多<sup>ク</sup>少<sup>ク</sup>隻<sup>ツ</sup>腳<sup>ツ</sup>?  
 隻<sup>ツ</sup>腳<sup>ツ</sup>?


答<sup>ツ</sup> ( ) 隻<sup>ツ</sup>

13. 下<sup>ニ</sup>圖<sup>ニ</sup> 1 ~ 5 號<sup>ニ</sup>中<sup>ニ</sup>哪<sup>カ</sup>種<sup>ニ</sup>動<sup>ツ</sup>物<sup>ツ</sup>的<sup>カ</sup>數<sup>ツ</sup>  
 量<sup>ツ</sup>最<sup>モ</sup>多<sup>ク</sup>?



答<sup>ツ</sup> ( ) 號<sup>ツ</sup>

14. 下<sup>ニ</sup>圖<sup>ニ</sup>中<sup>ニ</sup>誰<sup>カ</sup>最<sup>モ</sup>重<sup>ク</sup>? 請<sup>カ</sup>打<sup>ツ</sup> V。



15. 下<sup>ニ</sup>圖<sup>ニ</sup>中<sup>ニ</sup>哪<sup>カ</sup>個<sup>ニ</sup>最<sup>モ</sup>輕<sup>ク</sup>? 請<sup>カ</sup>打<sup>ツ</sup> V。

