


全國數學競技大賽模擬試題【國小五年級組】

比賽時間：15分鐘

試題共 2 頁

得 分	
--------	--

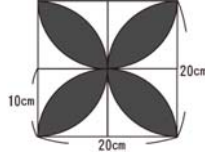
一、選擇題共三十題，每題2分

1. () 六邊形的內角和是多少？① 600
② 720 ③ 980 ④ 1080 度。
2. () 甲是乙的倍數，則乙是甲的？① 倍數
② 除數 ③ 合數 ④ 質數。
3. () 八角柱中，與底面垂直的面共有幾個？① 2 ② 4 ③ 6 ④ 8 個。
4. () $512 \div 8 \div 4$ ，也可以怎樣列式？
① $512 \div (8 \div 4)$ ② $512 \div (8 \times 4)$
③ $512 \times 8 \times 4$ ④ $512 \div 8 + 512 \div 4$ 。
5. () 一桶 3.6 公升的油，平均分裝成 10 小瓶，每瓶可裝多少毫升？① 0.4 ② 4
③ 40 ④ 400 毫升。
6. () $6 + 8 + 10 + 12 + \dots + 68$ 平均是多少？① 34 ② 35 ③ 36 ④ 37。
7. () 0.25 公升和 1.645 公升合起來是多少公升？① 1.895 ② 16.7 ③ 164.75
④ 1645.25 公升。
8. () 54 分 54 秒 $\div 6$ 分 6 秒 = ? ① 9 分
② 9 秒 ③ 9 ④ 90。
9. () 9 公升 26 公克 - 7 公升 95 公克 = ?
① 1.31kg ② 19.31g ③ 131g ④ 1931g。
10. () 下列圖形哪個不是對稱圖形？① \diamond
② \square ③ 正 ④ \blacktriangle 。
11. () 當圓的半徑增加為原來的 3 倍時，其周長會增加為原來的多少倍？① $\frac{1}{3}$
② 3 ③ 6 ④ 9 倍。
12. () $\frac{1}{3} + \frac{5}{18} + \frac{7}{36} = ?$ ① $\frac{13}{57}$ ② $\frac{29}{36}$ ③ $\frac{35}{6}$
④ $\frac{39}{72}$ 。
13. () 將每邊長 10 公分的正方體，每個面以紙包裹，需要準備的紙的面積是多少？① 1000 平方公分 ② 1000 公分
③ 600 公分 ④ 600 平方公分。
14. () $\frac{5}{8}$ 化為小數是多少？① 0.375 ② 0.562
③ 0.625 ④ 0.875。
15. () 角柱的任意一個頂點上，都有幾個邊相交？① 1 ② 2 ③ 3 ④ 4 個。
16. () 50 公噸 35 公升的沙子，用去 5.85 公噸還剩下多少公噸？① 44.185
② 4.4185 ③ 441.85 ④ 4418.5 公噸。
17. () 茶葉每 12 罐裝一箱，一罐茶葉有 600g，請問二箱共有多少公升？
① 14400kg ② 14400g ③ 144kg
④ 1.44kg。
18. () 百貨公司打折拍賣，服裝一律打三折。一件衣服，定價是 1200 元，現售價是多少元？① 3600 ② 1200 ③ 360
④ 36 元。
19. () 正八邊形的一個內角是幾度？
① 1080 ② 720 ③ 360 ④ 45 度。
20. () 下列何組木棒的長度，可以組成三角形？① 2cm、2cm、4cm
② 4cm、12cm、8cm
③ 16cm、10cm、8cm
④ 8cm、2cm、5cm。
21. () 甲乙丙都不是 0，且 $甲 > 乙 > 丙$ ，下列數值最大？① $\frac{1}{丙}$ ② $\frac{1}{乙}$ ③ $\frac{1}{甲}$
④ 不能比。
22. () 甲數 $\div 4 = 乙$ 數 $\times 3$ ，則兩數的關係？
① 甲 $<$ 乙 ② 甲 $>$ 乙 ③ 甲 = 乙
④ 無法判斷。
23. () 哪個分數最小？① $\frac{11}{12}$ ② $\frac{12}{13}$ ③ $\frac{13}{14}$
④ $\frac{14}{15}$ 。
24. () 17.089 的 100 倍是多少？① 117.089
② 170.89 ③ 1708.9 ④ 17089。
25. () 1860 毫米等於幾公升？① 186
② 18.6 ③ 1.86 ④ 0.186 公升。
26. ()  五邊形共有幾條對稱軸？① 2
② 4 ③ 6 ④ 8 條。
27. () 六角柱和三角錐的頂點數相差多少？① 16 ② 12 ③ 8 ④ 3。
28. () 長方體的長、寬、高都變為 3 倍後，體積會變為原來的幾倍？① 9 ② 27
③ 28 ④ 10 倍。

29. () 6529.2 的 $\frac{1}{100}$ 倍是多少? ① 6.5292
 ② 65.292 ③ 652.92 ④ 652920。
30. () 20 到 70 間 3 的倍數有幾個? ① 14
 ② 15 ③ 16 ④ 17 個。

二、應用題共十題，每題十分

1. 右圖黑色部份的面積是多少?



答 ()

2. 有一個紙箱，長是 7 公尺、寬是 5 公尺、高是 6 公尺，放 1 每邊長 45 公分的正方體禮盒，共可放幾個?

答 ()

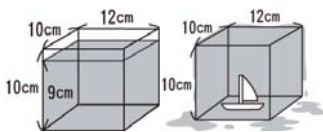
3. 勸導叢書共 315 頁，林林昨天看了 $\frac{1}{3}$ 本，今天看了 $\frac{2}{15}$ 本，還有幾頁沒有讀?

答 ()

4. 1000 公尺競賽，甲跑 1 分 45 秒，乙跑 2 分鐘，丙跑 118 秒，丁跑 1 分 58 秒，誰跑最快?

答 ()

5. 將一個玩具放入玻璃容器中，容器的水溢出了 200c.c. 請問該玩具的體積是多少? (不計容器厚度)



答 ()

6. 甲車一分鐘行駛 $1\frac{1}{4}$ 公里，乙車每分鐘行駛 1.75 公里兩車同時由相反方向行駛，十分鐘後兩車的距離是多遠?

答 ()

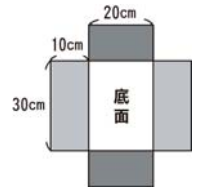
7. 影印機每秒鐘可影印 4 張，連續印了 5.6 分鐘，共可印出多少張?

答 ()

8. 一台手提電腦定價 58360 元，一輛汽車定價 423880 元，請用四捨五入法，兩項物品共要多少元?

答 ()

9. 右圖木盒製成容器裝水 3 公升時，水面會升高至多少公分?



答 ()

10. 哥哥和 4 位同學參加烤肉活動，他們買了 360 元豬排、388 元雞腿、玉米青椒 80 元、飲料 200 元、其他雜項 102 元。每人該分攤多少元?

答 ()

11. 一條鋼筋露掉 $2\frac{2}{5}$ 公尺後剩下的公分被 4 小段，每小段長 0.7 公尺，鋼筋原來有多長?

答 ()

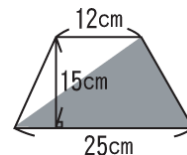
12. 縫製 1 件娃娃的衣服需要 1 小時 40 分鐘，8 小時 20 分鐘可縫製幾件衣服?

答 ()

13. 一個整數可 13 去除和可 65 去除，都能整除，此整數最小是多少?

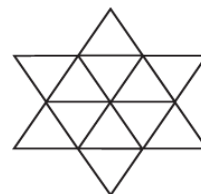
答 ()

14. 請求出斜灰色部份的面積是多少?



答 ()

15. 右圖中大大小小的三角形共有多少個?



答 ()