

# 全國數學聯合評鑑模擬試題【國小二年級下學期】

得分

測試時間：40 分鐘

准考證號碼：

姓名：

## 一、選擇題共三十題，每題五分

1. ( ) 8 個一、4 個十和 6 個百合起來是？ ① 846 ② 468 ③ 864 ④ 648。

2. ( ) 6 的 3 倍是多多少？ ① 12 ② 18 ③ 36 ④ 25。


3. ( )  $97 - ( ) = 24$ ，答是？ ① 121 ② 48 ③ 73 ④ 751。

4. ( )  平分給 2 個人，每人可以得幾枝？ ① 2 ② 4 ③ 6 ④ 5 枝。


5. ( )  $35 + ( ) = 85$ ，答是？ ① 55 ② 120 ③ 25 ④ 50。

6. ( ) 有 65 隻小烏龜，賣掉一些，剩下 52 隻，請問賣掉幾隻？ ① 19 ② 13 ③ 14 ④ 117。

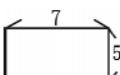
7. ( ) ① 【◆◇◇◇】 ② 【◆◇◆◇◇◆】 ③ 【◆◇◆◆◇◇◇◆◆】 ④ 【◆◇◇◆◆◆◆◆◆◆◆】 那個組的◆占圖形的二分之一？ ① 1 ② 2 ③ 3 ④ 4。

8. ( )  請問黑色是全部的幾分之幾？ ①  $\frac{1}{4}$  ②  $\frac{1}{6}$  ③  $\frac{1}{8}$  ④  $\frac{1}{10}$ 。

9. ( ) 正方形一邊長是 3 公分，周長是幾公分？ ① 3 ② 6 ③ 9 ④ 12。

10. ( )  請問左圖是稱為？ ① 圓形 ② 長方體 ③ 圓柱體 ④ 正方體。

11. ( ) 有 12 顆糖，平分給 3 個人，每人可以分到幾顆？ ① 3 ② 4 ③ 36 ④ 12 顆。

12. ( )  請問周長是幾公分？ ① 12 ② 24 ③ 35 ④ 2。

13. ( ) 一張 1000 元可換幾個 500 元？ ① 1 ② 2 ③ 3 ④ 4。

14. ( ) 五十幾加上二十幾，最多是多多少？ ① 70 ② 80 ③ 78 ④ 88。

15. ( ) 用 5、0、2、1、8 的數字卡排出一個最小的三位數？ ① 012 ② 125 ③ 852 ④ 102。

16. ( ) 一盒蘋果有 6 顆，36 個蘋果可以裝幾盒？ ① 1 ② 3 ③ 6 ④ 7。

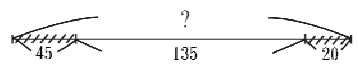
17. ( ) 比 1000 少 10 的數是？ ① 999 ② 991 ③ 1999 ④ 990。

18. ( ) 七十幾拿走二十幾，最少是多多少？ ① 50 ② 58 ③ 42 ④ 59。

19. ( ) 【 】 - 64 = 72，答是？ ① 72 - 64 ② 64 + 72 ③ 64 × 72 ④ 2 + 64 + 64。

20. ( ) 14 → 21 → 28 → ( ) → 42，答是？ ① 24 ② 32 ③ 25 ④ 35。

21. ( ) 同樣長 10 公分的繩子分成  $\frac{1}{2}$ 、 $\frac{1}{4}$ 、 $\frac{1}{5}$ 、 $\frac{1}{10}$  那一小段會是最短？ ①  $\frac{1}{2}$  ②  $\frac{1}{4}$  ③  $\frac{1}{5}$  ④  $\frac{1}{10}$ 。


22. ( )  全長是多多少？ ① 246 ② 226 ③ 200 ④ 240。

23. ( ) 27 → 24 → □ → 18 → △，請問 □ + △ = ? ① 15 ② 21 ③ 35 ④ 36。

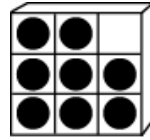
24. ( ) ( ) - 14 - 1 = 30，答是？ ① 15 ② 45 ③ 31 ④ 44。

25. ( ) 平平有 18 元，最多可以買幾張 5 元的郵票？ ① 4 ② 23 ③ 13 ④ 3 張。

26. ( ) 做蛋糕用了半瓶牛奶，弟弟又喝了剩下的一半，還有多多少？ ①  $\frac{1}{4}$  ②  $\frac{1}{5}$  ③  $\frac{1}{6}$  ④  $\frac{1}{7}$ 。






27. ( ) 教室的窗戶和地板形成? ① 水平狀態 ② 鉛垂狀態 ③ 平行狀態 ④ 面積相等。
28. ( )  長方體的頂點數加上邊數是多多少? ① 20 ② 12 ③ 8 ④ 16。
29. ( ) 買每包 12 元的糖果 3 包, 和 20 元的餅乾共要多多少元? ① 32 ② 52 ③ 56 ④ 35 元。
30. ( )  $2 \times 8 = ?$  ①  $12 \times 1$  ②  $3 \times 4$  ③  $4 \times 4$  ④  $5 \times 4$ 。

9. 一盒巧克力糖有 9 顆, 弟弟吃了 1 顆是吃了幾盒?



答 ( ) 盒

10. 下圖是學生「最喜愛的水果」投票, 得票最多的水果和最少的水果相差幾票?

1	2	3	4	5
				
正正	正	正正	正下	正正
正一	正	正	正	正正

答 ( ) 票

二、應用題共十五題, 每題十分

1. 大哥買了 79 元的一本故事書, 和一盒 123 元的彩色筆, 共付多少元?

答 ( ) 元

2. 小如要做一個小星星, 用掉 10 公分彩帶, 她做 6 顆小星星共要幾公分彩帶?

答 ( ) 公分

3. 靜靜今年 4 歲, 爸爸今年的年齡是靜靜的 8 倍, 爸爸今年幾歲?

答 ( ) 歲

4. 一打汽水有 12 瓶, 現有 36 瓶汽水共是幾打?

答 ( ) 打

5. 安安花了 84 元買了一顆皮球後, 還剩下 12 元, 他原有多少元?

答 ( ) 元

6. 操場上有男生 45 人, 女生比男生少 18 人, 操場上共有多少人?

答 ( ) 人

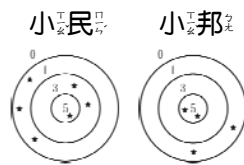
7. 遊樂園上午有遊客 247 人, 中午有 125 人離開, 又新進入 115 人, 現園裡有多少人?

答 ( ) 人

8. 一輛計程車可以坐 4 人, 有 12 人要搭車, 共要幾輛車?

答 ( ) 輛

11. 小民與小邦玩投飛球遊戲, 請問誰贏了? 贏幾分?



答 ( ) 贏 ( ) 分

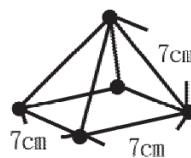
12. 藍色彩帶 5 公分, 紅色彩帶是藍色彩帶的 4 倍, 兩條彩帶共是幾公分?

答 ( ) 公分

13. 維維有 450 元, 其中 3 張 100 元的鈔票, 剩下都是 10 元的硬幣, 請問維維有幾個 10 元?

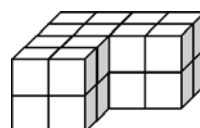
答 ( ) 個

14. 用小木棒和圓珠作成下圖, 共要多多少公分長的小木棒?



答 ( ) 公分

15. 下圖中共用了幾塊積木?



答 [ ]