

全國數學聯合評鑑模擬試題【國小二年級上學期】

測試時間：40 分鐘

准考證號碼：_____





姓名：_____

得
分

一、選擇題共三十題，每題五分


1. () $28 + 19 = ()$ ① 56 ② 9 ③ 47
④ 57。

2. () $144 \rightarrow 154 \rightarrow 164 \rightarrow () \rightarrow 184$
，答是？ ① 147 ② 174 ③ 156
④ 194。

3. ()     ① 共是「多」少元？
① 151 ② 121 ③ 177 ④ 166。

4. () $97 - 24 = ()$ ① 73 ② 78 ③
63 ④ 121。

5. () 105、96、118 從大排到小？
① $118 \rightarrow 105 \rightarrow 96$ ② $96 \rightarrow 105 \rightarrow 118$
③ $118 \rightarrow 96 \rightarrow 105$ ④ $105 \rightarrow 96 \rightarrow 118$ 。

6. ()  (cm)




請問兩根迴紋針共是幾公分？
① 6 ② 7 ③ 8 ④ 9 公分。

7. () 8 個 2 公分紙片合起來是幾公分？
① 12 ② 14 ③ 16 ④ 18 公分。

8. () 2 月 1 日的前一天是幾月幾日？
① 3 月 1 日 ② 1 月 30 日
③ 1 月 31 日 ④ 2 月 28 日。

9. () 9 的 4 倍是多多少？ ① 32 ② 36
③ 28 ④ 45。

10. () 一打鉛筆 12 枝，3 打共有幾枝？
① 36 枝 ② 15 枝 ③ 32
枝 ④ 45 枝。





11. ()  一隻章魚有 8 隻腳，7 隻
章魚共有幾隻腳？ ① 15 ② 48
③ 49 ④ 56 隻。






12. () 鐘面是幾點幾分？
① 2:09 ② 3:45 ③ 2:45 ④ 3:09。

13. () ①  ②  ③  ④ 
那一個的圖形是最大？ ① 1
② 2 ③ 3 ④ 4。

14. () \triangle 左圖中有幾個邊？ ① 0
② 1 ③ 2 ④ 3。

15. () ①  ②  ③  ④  那
個裝水最多？ ① 1 ② 2 ③ 3
④ 4。


16. () 1 個  2 個  和 8 個 
組成的數是？ ① 821 ② 128
③ 281 ④ 182。




17. () 比 200 少 1 的數是？ ① 201 ②
211 ③ 190 ④ 199。

18. () $31 + 7$ 【 】 39 ，填入 <、>、
=，答是？ ① < ② > ③ =
④ +。

19. () $78 - 23$ 【 】 72 ，填入 <、>
、=，答是？ ① < ② > ③
= ④ +。

20. () 減數是 32 被減數 87 差為多或少？
① 119 ② 87 ③ 55 ④ 48。

21. ()  打結的地方 10 公分，繩子的
共有多長？ ① 48 ② 46 ③ 68
④ 58 公分。

22. ()  的 3 倍比  的 8 倍少 ()
個  ① 50 ② 30 ③ 5 ④ 3。

23. () 3 隻牛和 2 隻雞共有幾隻腳？
① 5 ② 10 ③ 20 ④ 16 隻。

24. () 1 支棒棒糖 5 元，買 7 支要付
幾元？ ① 12 ② 20 ③ 30 ④ 35
元。

25. () ① \square ② ∇ ③ \circ ④ \star 左圖
中那個是有垂直的現象？ ①
 \square ② ∇ ③ \circ ④ \star 。



26. () 左圖 2 小時後是幾點幾分？
 ① 4:00 ② 4:55 ③ 5:55 ④ 6:55。

27. () 正三角形有幾個一樣的角？
 ① 1 ② 2 ③ 3 ④ 4 個。

28. () 8 月的第一天是星期日，請問 7 月的 31 日是星期幾？
 ① 星期二 ② 星期四 ③ 星期六 ④ 星期一。

29. () 課本、甜筒、汽球、黑板，共有幾件東西有平行的現象？
 ① 1 ② 2 ③ 3 ④ 4 件。

30. () 最小的小的三位數是幾？
 ① 111 ② 112 ③ 110 ④ 100。

二、應用題共十五題，每題十分。

1. 彥彥有 36 元，偉偉有 87 元，兩個人共有多少元？

答 () 元

2. 安安做緞帶花用掉 45 公分，還剩下 38 公分，緞帶原來長幾公分？

答 () 公分

3. 有 52 人排隊買火車票，大雄排在第 22 個，他的後面還有幾個人？

答 () 人

4. 一隻瓢蟲有 6 隻腳，5 隻瓢蟲共有幾隻腳？

答 () 隻

5. 冰箱裡有 50 瓶果汁，喝了 12 瓶，媽媽又放進 20 瓶，冰箱裡還有幾瓶果汁？

答 () 瓶

6. 皓皓有 35 元，安安有 48 元，想合買一個 99 元的禮物，還差幾元？

答 () 元

7. 一輛汽車有 4 個輪子，9 輛車共有幾個輪子？

答 () 個

8. 大魚缸裡有金魚 26 條，球魚 37 條，孔雀魚 56 條，魚缸裡共有幾條魚？

答 () 條

9. 從 12 月 12 日到 12 月 18 日，共有幾天？

答 () 天

10. 草莓 45 顆，兄弟兩人各吃了 12 顆後，還剩下幾顆？

答 () 顆

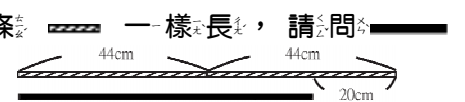
11. 用 50 公分的尺量桌子，尺不夠長，量了一次後，再量一次是 25 公分，請問桌子有多長？

答 () 公分

12. 蛋塔一盒有 6 個，買 4 盒總共有幾個蛋塔？

答 () 個

13. 下面兩條一樣長，請問有多長？



答 () 公分

14. 一盒豆花 10 元，媽媽買了 4 盒，付百鈔票一張，可找回多少元？

答 () 元

15. 請用 1、2、3、4、5 填入下面圖中，橫和直三個數相加的答案一樣？

