

全國數學聯合評鑑模擬試題【國小一年級下學期】

得分

測試時間：40 分鐘

准考證號碼：_____

姓名：_____

一、選擇題共三十題，每題五分

1. () 34、81、26、19 從小排到大？


- ① 19 → 26 → 81 → 34 ② 34 → 26 → 81 → 19
 ③ 19 → 26 → 34 → 81 ④ 19 → 26 → 81 → 34。

2. () 85 → 75 → 65 → () → 45 → 35，答：① 56 ② 85 ③ 55 ④ 75。

3. () 比 89 大，比 93 小的數字是幾個？ ① 3 ② 5 ③ 4 ④ 6。

4. () $59 - 17 = ()$ ，答：① 36 ② 44 ③ 42 ④ 73。

5. () 個位數是 2，十位數是 4 的數是多多少？ ① 29 ② 24 ③ 32 ④ 42。

6. () ，兩條繩子相差幾個□？ ① 8 ② 7 ③ 6 ④ 5 個。

7. ()  請問魚和幾個□一樣長？ ① 6 ② 7 ③ 8 ④ 9 個。

8. () 從【9】、【7】、【3】三個數字卡中，選出兩張排出最大的兩位數是多多少？ ① 37 ② 20 ③ 30 ④ 97。

9. ()  共是多多少元？ ① 24 ② 60 ③ 48 ④ 98 元。


10. () $34 - 16 = ()$ ，答：① 16 ② 17 ③ 18 ④ 19。


11. () $17 + 2 = ()$ ，答：① 12 ② 17 ③ 19 ④ 20。

12. () 30 個 1 元，可以換成幾個 10 元，答：① 3 ② 4 ③ 5 ④ 6 個。

13. () 比 45 大、比 48 小的偶數是？ ① 45 ② 46 ③ 47 ④ 48。



14. () () + 15 = 40，答：① 15 ② 25 ③ 35 ④ 45。

15. ()  上午 9 點鐘開始玩拼圖遊戲，拼了 2 個小時才拼完，請問是幾點拼完？ ① 9 點 ② 10 點 ③ 11 點 ④ 12 點。

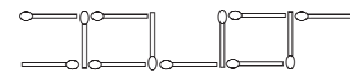
16. ()  請問共是多多少元？ ① 58 ② 84 ③ 62 ④ 68 元。





17. () 一年的最後一個月是幾月？答：① 一月 ② 二月 ③ 十一月 ④ 十二月。

18. () 買一個 85 元的小皮包，要付多少個 10 元？ ① 8 ② 85 ③ 58 ④ 9 個。

19. () 一個 ，可以買 2 個小鈴鐺 ，珊珊有 30 元，可以買幾個小鈴鐺？ ① 10 ② 7 ③ 12 ④ 30 個。

20. () 比 64 小 12 的數是多多少？答：① 76 ② 67 ③ 25 ④ 52。

21. ()  共是幾根火柴棒組成？ ① 14 ② 13 ③ 12 ④ 11 根。

22. () 有 22 個  和 9 個 ，請問  比  多幾個？ ① 13 ② 12 ③ 31 ④ 22 個。

23. () 【23】、【5】、【16】、【28】、【72】，共有幾個偶數？ ① 2 ② 3 ③ 4 ④ 5。


24. () 三月加上四月共有幾天？ ① 60 ② 61 ③ 62 ④ 58。

25. () $12 + () = 2 + 15$ ，答：① 3 ② 4 ③ 5 ④ 6。

26. () 2月25日(2/25)，11月20日(11/20)，9月23日(9/23)，三個日期的先後？
 ① 2/25 → 9/23 → 11/20 ② 11/20 → 9/23 → 2/25
 ③ 2/25 → 11/20 → 9/23 ④ 9/23 → 11/20 → 2/25。

27. () 文文有40元，她要再存幾個10元才能買一個75元的小熊玩具？
 ① 3 ② 4 ③ 5 ④ 6 個10元。

28. () 15向下數5是多多少？
 ① 20 ② 12 ③ 15 ④ 10。

29. ()  上圖中(正方形) + (三角形) + (圓形) 共有幾個？
 ① 18 ② 16 ③ 11 ④ 15。

30. () 那三個數加起來是【25】？
 ① 6+9+3 ② 7+9+2 ③ 8+8+9 ④ 9+1+6。

二、應用題共十五題，每題十分

1. 一條85公分長的彩帶剪成兩段，一段是23公分，另一段長幾公分？

答()公分

2. 冰箱裡有16枝冰棒和7枝甜筒，冰棒比甜筒多幾枝？



答()枝

3. 一層書架可以放8本書，兩層書架共可放幾本書？

答()本

4. 明明有5元，買一條跳繩用掉20元，還剩多少元？

答()元

5. 姊姊買  35元、 12元，共花了多少元？

答()元

6. 皓皓有54張貼紙，安安比他少18張，安安有幾張貼紙？

答()張

7. 爸爸出國兩個星期，請問是幾天？

答()天

8. 一包餅乾有50片，哥哥吃了12片，弟弟吃了8片，姊姊吃了3片，共吃了幾片？

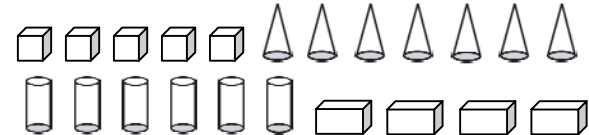
答()片

9. 操場上有48個小朋友，有29個是男生，其他都是女生，操場上有幾個女生？

答()個


10. 穎穎原有10張書卡，她再拿20元去買每張5元的書卡，現在她有幾張書卡？

答()張

11. 

以上請畫記『正』記，再寫數量：

立體形體	正方體	圓錐	圓柱	長方體
畫記				
數量(個)				

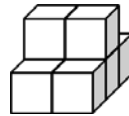
12.  請選出2張字卡，排成最小的數是多多少？

答()

13. 珮珮今年16歲，玲玲比珮珮小4歲，君君比玲玲小6歲，君君今年幾歲？

答()歲

14. 下面圖形中共有幾塊積木？



答()塊

15. 下圖是12月份月曆，小英每個星期一和星期四都要上珠算課，請問12月共要上幾次課？

12月						
星期日	星期一	星期二	星期三	星期四	星期五	星期六
				1	2	3
4	5	6	7	8	9	10
11	12	13	14	15	16	17
18	19	20	21	22	23	24
25	26	27	28	29	30	31

答()次