

全國數學聯合評鑑模擬試題【國小一年級上學期】

得分

測試時間：40 分鐘

准考證號碼：

姓名：





一、選擇題共三十題，每題五分

1. () $\bigcirc \square \bullet \nabla \star \diamond \blacktriangle \blacklozenge \star \odot$ 從左邊數來第六個是什麼圖形？

- ① \star ② \square ③ \diamond ④ \bullet 。

2. () $12 \rightarrow 10 \rightarrow 8 \rightarrow () \rightarrow 4 \rightarrow 2$ ，答是多多少？ ① 7 ② 9 ③ 6 ④ 9。

3. () 比 24 大，比 17 小的數字是多多少？ ① 17 ② 19 ③ 16 ④ 13。





4. () ① ，② ，③ ，④  那個線段比較長？ ① 1 ② 2 ③ 3 ④ 4。

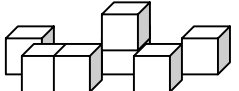
5. () $\bigcirc \bigcirc \bigcirc \bigcirc \bigcirc \bigcirc \bigcirc \bigcirc \bigcirc$ 可分成 4 個和多多少個？ ① 2 個 ② 5 個 ③ 9 個 ④ 6 個。

6. () $\Phi \Phi \Phi \Phi \Phi \Phi \Phi \Phi \Phi$ 和 $\Phi \Phi \Phi$ 共有幾個？ ① 13 ② 14 ③ 15 ④ 16 個。

7. () $\square \square \square$ 左邊是三個什麼圖形？ ① 長方形 ② 圓形 ③ 三角形 ④ 正方形。

8. () 哪個杯子可以裝最多的水？

- ①  ②  ③  ④ 
- ① 1 ② 2 ③ 3 ④ 4。

9. ()  共有幾塊積木？ ① 5 ② 9 ③ 8 ④ 7 塊。

10. () $8 + 6 = ()$ ① 10 ② 11 ③ 14 ④ 12。

11. () 5, 3, 7, 9 從小排到大？ ① 5, 3, 7, 9 ② 9, 5, 7, 3 ③ 3, 5, 7, 9 ④ 7, 5, 3, 9。

12. () 7 點時，長針指在哪個數字？ ① 5 ② 9 ③ 12 ④ 7。



13. () 4, 5, 8, 2 從大排到小？ ① 5, 4, 2, 8 ② 2, 4, 5, 8 ③ 8, 5, 4, 2 ④ 2, 8, 5, 4。


14. () $15 - 8 = ()$ ① 7 ② 9 ③ 6 ④ 8。

15. () 5 比 9 小多少？ ① 3 ② 14 ③ 4 ④ 9。

16. ()  最右邊的是什麼？ ①  ②  ③  ④ 。

17. () 圓形、長方形、正方形、三角形【 $\square \bigcirc \triangle$ 】，請問圖形中缺少了什麼形狀？ ① 圓形 ② 長方形 ③ 正方形 ④ 三角形。

18. ()  加上  共有幾個？ ① 9 ② 2 ③ 6 ④ 10 個。

19. ()  鐘面上是幾點鐘？ ① 8:30 ② 12:00 ③ 4:00 ④ 6:00。







20. ()  那一個動物是最高？ ①  ②  ③  ④ 。

21. () 時鐘的鐘面上有幾大格？ ① 3 ② 10 ③ 20 ④ 12。

22. ()  從左邊數來第三個是什麼？ ①  ②  ③  ④ 。

23. () $12 + () = 20$ ，答案是？ ① 31 ② 12 ③ 20 ④ 8。

24. () 短針指著 2 長針指著 12，是幾點鐘？ ① 1 點 ② 12 點 ③ 2 點 ④ 4 點。

25. () 12 可分為 3 + () 答案是?
 ① 9 ② 12 ③ 16 ④ 22。
26. () 7 → 9 → 11 → () → 15, 答案是?
 ① 14 ② 13 ③ 12 ④ 11。
27. () 5 向上數, 2 是多多少?
 ① 3 ② 7 ③ 4 ④ 10。
28. ()  左圖是由  ①  ②  ③  ④  那組圖形組成?
 ① 1 ② 2 ③ 3 ④ 4。
29. () 4, 6, 8, 17, 2, 7, 1, 9, 12, 5, 20, 左邊數來第三個數和右邊數來第四個數加起來是多多少?
 ① 29 ② 20 ③ 17 ④ 9。
30. () 比 16 小, 比 9 大的數有幾個?
 ① 6 ② 7 ③ 8 ④ 9。


二、應用題共十五題, 每題十分

1. 盤子裡有 7 根香蕉, 吃了 3 根, 還剩下幾根?
 答 () 根
2. 池塘裡有 12 隻青蛙, 又跳來 5 隻, 請問共有幾隻?
 答 () 隻
3. 小米有 10 元, 媽媽又給她 5 元, 請問小米共有多少元?
 答 () 元
4. 明明有 11 張郵票, 哥哥比明明多 5 張, 哥哥有幾張郵票?
 答 () 張
5. 一包糖果 5 元, 買二包糖果要多多少元?
 答 () 元
6. 浩浩今年 10 歲, 安安比他小 2 歲, 請問安安幾歲?
 答 () 歲

7. 一包餅乾有 12 片, 安安吃 2 片, 姊姊也吃掉 2 片, 還剩幾片餅乾?
 答 () 片
8. 哥哥有 15 顆彈珠, 弟弟有 6 顆, 請問哥哥比弟弟多幾顆?
 答 () 顆
9. 婷婷有 5 包的糖果, 瑄瑄有 10 包, 兩人共有幾包糖果?
 答 () 包
10. 鐘面上最大的數和最小的數加起來是多多少?
 答 ()
11. 三隻鴨子和一條蛇, 共有幾隻腳?
 答 () 隻

12. 小企鵝排隊吃飯, 牠的前面有 6 隻, 牠的後面有 5 隻, 問共有幾隻企鵝在排隊?
 答 () 隻

13. 請問下圖蘋果右邊的數, 減去蘋果上面的數是多多少?
 答 ()

12	9	6
7		18
5	12	2

14. 延續上題, 請問蘋果左邊的數, 加上蘋果下面的數是多多少?
 答 ()
15. 請問共有幾個積木疊成?
 答 () 個

